



Imię i nazwisko .....

Szkoła .....



## Projekt flagi

Za górami, za lasami, w odległej krainie, żyło plemię wojowników i drwali. Nie wadzili nikomu, a mimo to z północy i wschodu byli nękani przez swych odwiecznych wrogów. Jak każde plemię, mieli swoje godło i flagę. Symbole te jednoczyły ich w trudnych chwilach, szczególnie wtedy, gdy musieli bronić się przed intruzami.

Flaga miała kształt prostokąta.

W punkcie przecięcia przekątnych, jako środka, grubą kreską narysowane było koło o promieniu równym połowie połowy długości krótszego boku prostokąta. Brzeg koła najeżony był zębami, coś na podobieństwo tarczowej piły do drewna.

Trójkąty rozwartokątne, wyznaczone przez przekątne prostokąta, poza częścią zajętą przez koło, ozdobiono gwiazdkami.

Dwa miecze umieszczone na osiach symetrii prostokąta przecinały się w połowie, ostrzami skierowane w stronę wrogów.

Na karcie odpowiedzi naszkicuj projekt flagi tego plemienia.



# Magia matematyki




Imię i nazwisko .....

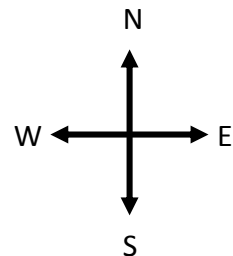

Szkoła .....



## Karta odpowiedzi do zadania „Projekt flagi”



*Do narysowania projektu flagi, przydatne mogą być:*



**KAPITAŁ LUDZKI**  
NARODOWA STRATEGIA SPÓJNOŚCI

Projekt współfinansowany przez Unię Europejską  
w ramach Europejskiego Funduszu Społecznego

**UNIA EUROPEJSKA**  
EUROPEJSKI  
FUNDUSZ SPOŁECZNY

